

Nombre _____

Fecha _____

Matemática recreativa

¿Quién dijo que las matemáticas no son divertidas? Claro que lo son, el día de hoy vamos a resolver algunas actividades que pondrán a prueba tu mente, ¿asume el reto?

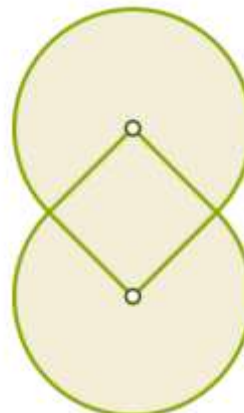
$$\begin{array}{r}
 \text{A M O R} \\
 + \text{A M O R} \\
 \hline
 \text{A M O R} \\
 \hline
 \text{M A D R E}
 \end{array}$$

$M \times O \times D = 6$

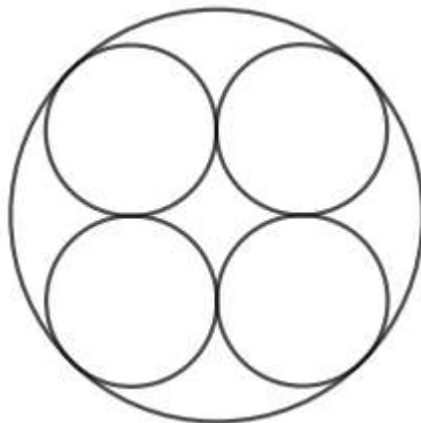
Resuelve la siguiente alfanumérica. Para resolverla debes darle un valor diferente a cada letra, cada letra representa un dígito y debe cumplir con las condiciones dadas en la parte inferior de la suma. ¡Encuentra los valores y comprueba tu respuesta!



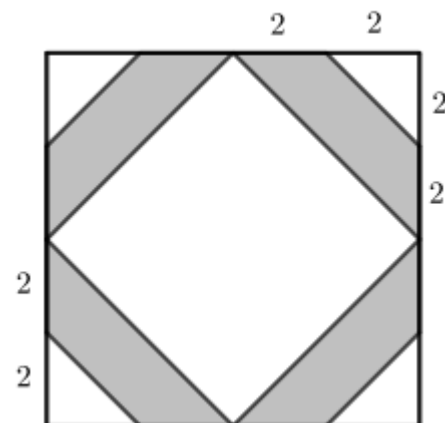
Cambia de posición un fósforo para que encuentre la operación correcta.



El cuadrado tiene 1 dm de lado, determina el perímetro y el área de este adorno.



Si el radio de los círculos pequeños es 1m, ¿cuál es el radio del círculo grande?



La figura es simétrica. ¿Qué porcentaje del área del cuadrado está sombreada?